

# ДЕМОНСТРАЦИОННЫЙ ВАРИАНТ ПО МАТЕМАТИКЕ ДЛЯ 1 КЛАССА

РЕГИСТРАЦИОННЫЕ ДАННЫЕ

Код региона

Код школы

Код класса

Код ученика

Фамилия, Имя учащегося \_\_\_\_\_

1) Рассмотрите числа, напишите их в порядке возрастания.

3, 7, 19, 5, 14

Ответ: \_\_\_\_\_

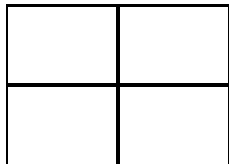
2) Найдите значение выражения.

$10 + 5 =$  \_\_\_\_\_

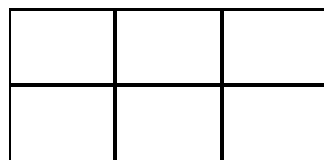
3) Найдите значение выражения.

$14 - 2 =$  \_\_\_\_\_

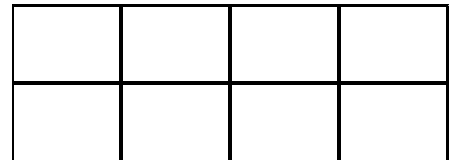
4) На какую грядку можно посадить все цветочки? Запишите номер правильного ответа.



1)



2)




3)

Ответ: \_\_\_\_\_


5) **Решите задачу:** У Маши было 13 конфет. Мама дала ей еще 4 мармеладки. Сколько теперь сладостей у Маши? Обведите в кружок правильный ответ.

1) 9      2) 15      3) 16      4) 17

6) Обведите в кружок все цифры, обозначающие треугольники.

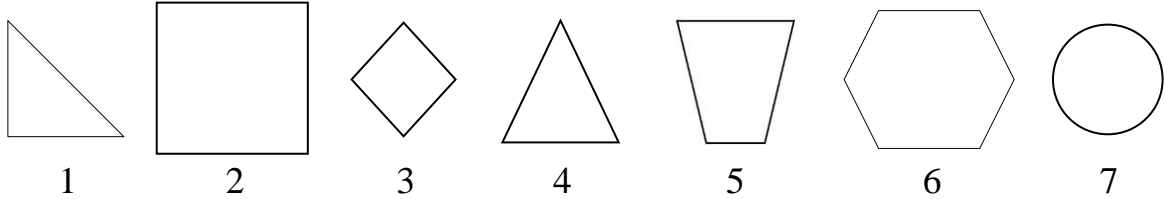


7 **Рассмотри рисунок.** Коля собирал шишки и жёлуди для поделки. На сколько желудей больше, чем шишек он собрал?



Ответ: \_\_\_\_\_

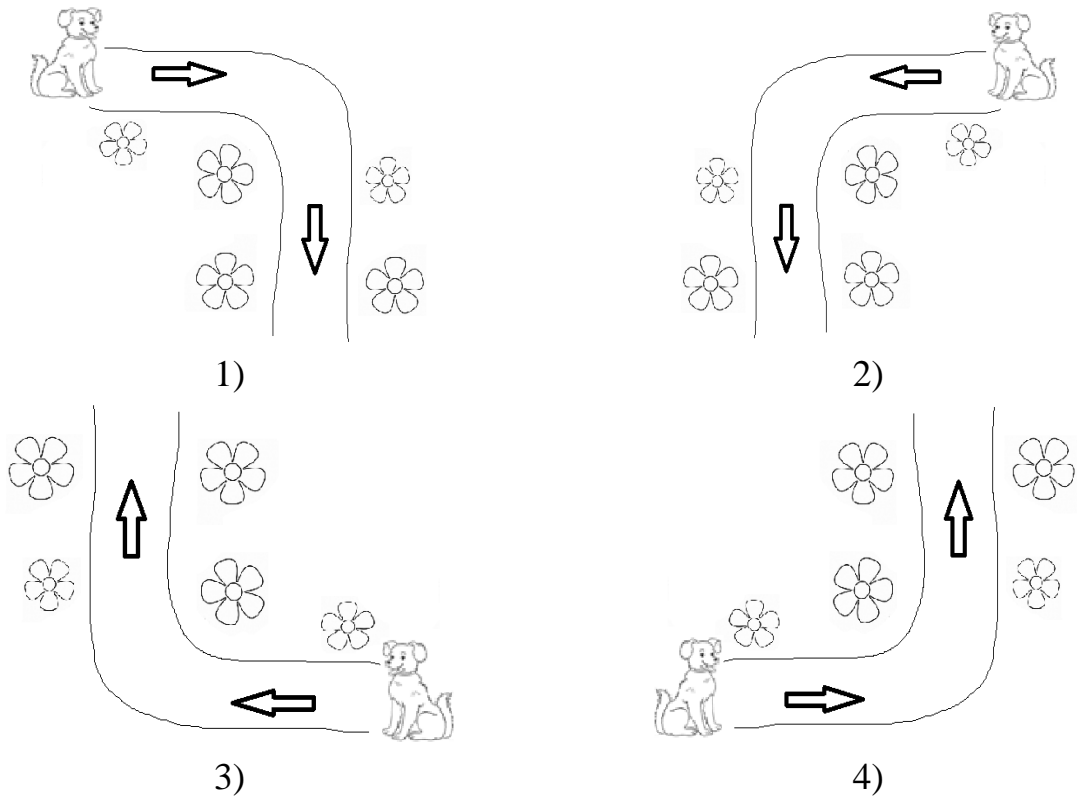
8 Найди все треугольники. Обведи в кружок их номера.



9 Выбери число, которое на 4 меньше, чем 9. Обведи в кружок правильный ответ.

- 1) 4      2) 5      3) 12      4) 13

10 Какая из этих схем показывает нужную дорогу, если известно, что на правильной схеме дорога сначала идет **направо**, а потом **вверх**. Обведи в кружок, правильную дорогу.



## ДОПОЛНИТЕЛЬНАЯ ЧАСТЬ

11

**Реши задачу.** Мама принесла связку бананов. Их больше 15, но меньше 18. Сколько бананов могла принести мама?

**Ответ:** \_\_\_\_\_

12

Запиши сумму числа 12, чтобы одно число было двузначным, а другое однозначным.

Приведи ДВА примера.

**Решение 1:** \_\_\_\_\_

**Решение 2:** \_\_\_\_\_

13

Дети пошли в магазин и купили карандаши. В таблице указано, сколько карандашей они купили.

Дети	Карандаши	
	Красные	Синие
Катя	4	3
Ваня	2	4
Маша	7	2
Петя	3	5

Ответь на вопросы. Обведи в кружок правильный ответ.

1) Сколько синих карандашей купил Ваня?

1) 2      2) 4      3) 6      4) 7

2) Кто из детей купил больше всех красных карандашей?

1) Катя      2) Ваня      3) Маша      4) Петя

3) Сколько всего красных карандашей купили мальчики?

**Ответ:** \_\_\_\_\_

14

В автобусе ехали мама и 2 дочери, Петя с бабушкой и дедушкой и 2 мужчин. Сколько взрослых ехало в автобусе?

Решение:																			
Ответ:																			